

## Guía 1

0) Encuentre la parte real, el módulo, la fase y el conjugado de

$$z = \frac{1}{a+ib} \quad z = \rho e^{i\phi} e^{i\omega t} \quad z = e^{a+ib} \quad z = e^{i\phi_1} + e^{i\phi_2}$$

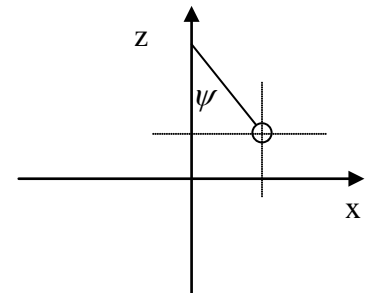
$$z = Ae^{i\phi_1} + Be^{i\phi_2} \quad \text{con } A, B, \rho \text{ y } \phi \text{ reales.}$$

1\*) Escriba la ecuación del péndulo usando como coordenadas:

- x
- z
- $\xi = \text{sen}\psi$

Escriba la energía potencial y cinética en dichas coordenadas.

Discuta cuales elecciones son razonables y cuales no, y porque.



Prob 1...

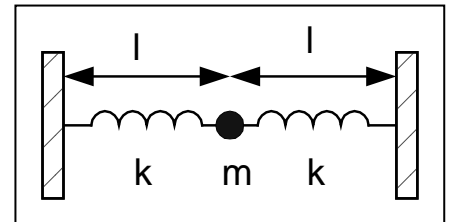
2) Resuelva el péndulo en pequeñas oscilaciones tomando como coordenada el ángulo entre el hilo y la horizontal (techo).

3) Demuestre que si  $\psi$  es una solución matemática compleja de la ecuación del oscilador armónico, su parte real también es solución.

4) Escriba y resuelva las ecuaciones de movimiento para los siguientes sistemas.

a) Péndulo de longitud  $l$  en un campo gravitatorio constante  $g$ . Discuta todas las aproximaciones realizadas. Demuestre que sin dichas aproximaciones la superposición lineal de dos soluciones no es solución (el sistema no es lineal)

b) Oscilaciones longitudinales del sistema de la figura para los dos casos límite: i) resorte poco estirado ii) resorte muy elongable (slinky).



c) Oscilaciones transversales del sistema de la figura nuevamente para los mismos dos casos límite. Analice cuidadosamente las aproximaciones realizadas y para el caso **i**, describa las diferencias

entre resortes inicialmente elongados ( $l > l_0$ ) y aquellos inicialmente relajados ( $l = l_0$ ).

En todos los casos discuta el significado del límite cuando la constante restitutiva tiende a cero.

Compare las frecuencias de los modos longitudinales con los transversales.

5\*) Resuelva el resorte vertical con un peso colgado usando como cero de coordenadas la del resorte en reposo sin peso. Escriba la energía potencial (gravitatoria mas elástica) y encuentre el equilibrio y la curvatura. Al oscilar, ¿la energía potencial es solo la del resorte o también oscila la potencial gravitatoria?

6\*) Calcule la tensión del hilo en función del ángulo para un péndulo en pequeñas oscilaciones. Discuta la validez de la hipótesis de longitud de hilo constante. De valores de orden de magnitud razonables a los parámetros que necesite para la discusión. Discuta la validez de la aproximación  $g = \text{constante}$ .

7) Oscilador amortiguado. Si la condición inicial es  $\psi = \psi_0$  y  $\dot{\psi} = 0$ . Encuentre la solución a la ecuación de movimiento y escriba cual es la energía inicial.

8\*) Se tiene un péndulo que oscila con una disipación tal que su amplitud se reduce un 10% cada 10 oscilaciones. ¿Con que precisión deberíamos determinar su longitud para notar el corrimiento en su frecuencia debido al rozamiento?

9) Verifique que si  $\psi_1$  y  $\psi_2$  son soluciones de la ecuación del oscilador armónico libre, cualquier combinación lineal  $\psi = A\psi_1 + B\psi_2$  también es solución. Muestre que esto también vale si la fuerza disipativa es proporcional a la velocidad. ¿Vale si es un rozamiento constante?

10) Para un péndulo con fuerza de disipación proporcional a la velocidad calcule el trabajo que realiza la fuerza de rozamiento y compárelo con la pérdida de energía.

11\*) Resuelva un oscilador armónico libre al que se le agrega una fuerza de rozamiento constante. Sugerencia: resuelva cada media oscilación agregando la fuerza que cambia la posición de equilibrio. Calcule el movimiento cada medio ciclo. Evalúe como cambia la amplitud cada medio ciclo. Calcule como es esa amplitud máxima en función del número de oscilación y compárela con una fuerza disipativa proporcional a la velocidad.

12) Grafique las soluciones al oscilador amortiguado en el caso de amortiguamiento crítico y en el sobreamortiguado.

13a) resuelva de manera completa el oscilador forzado excitado en el pico de resonancia ( $\omega = \omega_o$ ) con la condición inicial de estar en reposo en su posición de equilibrio.

b) simplifique la expresión para el caso en que  $\gamma \ll \omega_o$  y gráfiquela para poner en evidencia como el sistema tiende a su solución estacionaria.

14\*) Construya un péndulo de torsión, mida sus parámetros relevantes y escriba la ecuación diferencial que describe su movimiento.

15) Discuta entre los distintos osciladores unidimensionales que se le ocurran factibles, cuál construiría para verificar las predicciones del modelo de oscilador armónico libre.

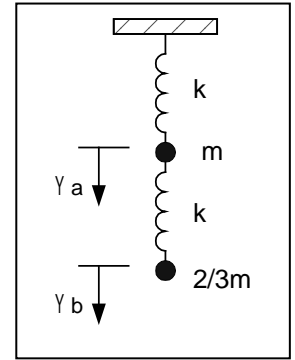
16) Repita el problema 13 para el caso en que no se lo excita en el pico de resonancia. Resuelva y grafique en forma completa el caso de muy baja frecuencia.

17) Resuelva el oscilador armónico sin pérdidas y muestre que cuando domina la solución elástica (lejos de la resonancia) la solución hallada aproxima adecuadamente a la que tiene en cuenta las pérdidas.

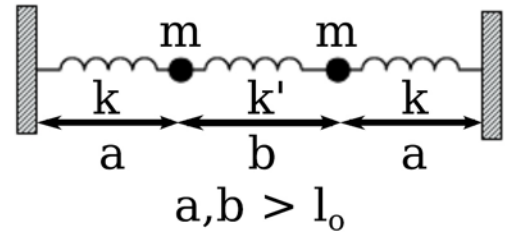
**Nota general:** en todos los problemas (de todas las materias), analice a priori qué puede predecir sin hacer cálculos y analice a posteriori qué podría haber predicho sin hacer cálculos. Si va achicando la diferencia entre ambos está aprendiendo los conceptos (o perdiendo capacidad de análisis)

## Guía 2

- 1.- a) Considere el sistema de la figura en ausencia de gravedad y obtenga sus frecuencias naturales de oscilación y los modos normales correspondientes. Escriba las ecuaciones de movimiento de cada masa.
- b) Sabiendo que en  $t=0$  el sistema satisface las siguientes condiciones  $\Psi_a(0)=1$  y  $\Psi_b(0)=0$  y que se encuentra en reposo, encuentre el movimiento de cada partícula.
- c) Analice cómo se modifica el resultado por la presencia de la gravedad.



- 2.- Considere el sistema de la figura. Las masas están apoyadas en una mesa sin rozamiento, sujetas a las paredes por resortes de constante  $k$  y unidas por otro resorte de constante  $k'$ . Los resortes tienen longitud natural  $l_0$ .

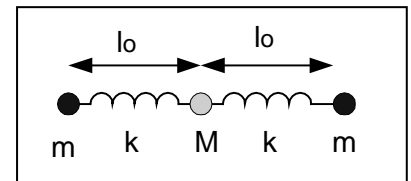


Obtenga las frecuencias y los modos transversales del sistema.

¿Bajo qué condiciones espera observar batidos? ¿Qué son batidos?

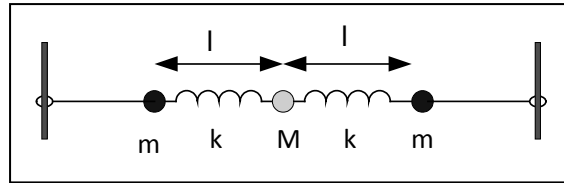
- 3.- Considere el sistema simplificado de la figura que se basa en una molécula triatómica simétrica. En el equilibrio dos átomos de masa  $m$  están situados a ambos lados del átomo de masa  $M=2m$  y vinculados por resortes de constante  $k$  y longitud natural  $l_0$ . Como sólo estamos interesados en analizar los modos longitudinales

- a) Encuentre las ecuaciones de movimiento de cada masa.
- b) Halle las frecuencias de los modos normales.
- c) Dibuje las configuraciones de cada modo.
- d) Si el centro de masa de la molécula se mueve con  $v_0 = \text{cte}$ , halle la solución para  $\Psi_a(t)$ ,  $\Psi_b(t)$  y  $\Psi_c(t)$ .
- e) Establezca cuáles deben ser las condiciones iniciales para excitar sólo el modo más alto (mayor frecuencia).
- f) Si se aplica a una de las masas una fuerza armónica, ¿a cuál conviene aplicarla para excitar más eficientemente el modo de mayor frecuencia?



- 4.- Se analizan las oscilaciones transversales del sistema de la figura. Los resortes tienen longitud natural  $l_0$  (donde  $l > l_0$ )

- a) Encuentre las ecuaciones de movimiento de las masas.
- b) Halle las frecuencias de los modos normales.
- c) Dibuje la configuración correspondiente a cada modo normal.
- d) Si el centro de masa se encuentra en reposo, determine los desplazamientos de cada masa como función del tiempo.
- e) ¿Qué condiciones iniciales que permiten excitar sólo el segundo modo?
- f) Si se fuerza la masa del centro y se va variando la frecuencia, ¿qué modos se observan?
- g) ¿Cómo se modifican los resultados anteriores si el extremo de la derecha se fija a la pared?



5).- Considere el sistema de dos péndulos de igual longitud  $l$  pero de masas diferentes  $m_a$  y  $m_b$ , acoplados mediante un resorte de constante  $k$

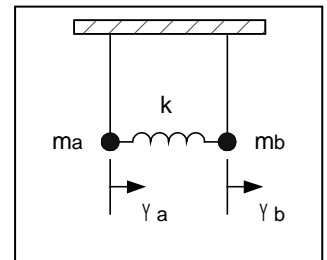
a) Escriba las ecuaciones de movimiento de cada masa

b) Obtenga las frecuencias naturales del sistema y sus modos normales de oscilación. Interprete el significado físico de estos modos normales.

c) Suponiendo que el acoplamiento es débil y que las condiciones iniciales son

$\Psi_a(0)=0$  y  $\Psi_b(0)=1$  y las velocidades iniciales son cero.

Obtenga el movimiento de cada masa y grafíquelo en función del tiempo.



d) Calcule los valores medios, en un ciclo rápido, de las siguientes

magnitudes  $T_a$ ,  $T_b$ ,  $V_a$  y  $V_b$ , donde  $T$  indica energía cinética y  $V$  energía potencial gravitatoria. Demuestre que bajo la hipótesis de acoplamiento débil

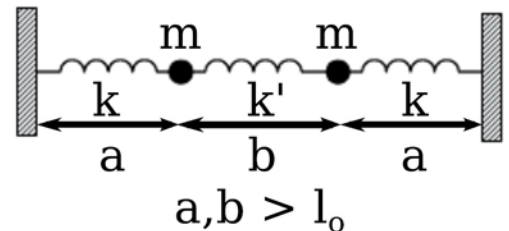
$\langle T_a \rangle \sim \langle V_a \rangle$  ( $\langle \rangle$ =valor medio) y  $\langle T_b \rangle \sim \langle V_b \rangle$ . Grafique  $\langle E_a \rangle$  y  $\langle E_b \rangle$ , y analice las

diferencias en el gráfico como función de las diferencias entre las masas ( $m_a=m_b$  y  $m_a$  muy diferente de  $m_b$ ). Calcule el valor medio de la energía de interacción entre las dos partículas.

6) Encuentre los modos normales de los osciladores acoplados en los casos discutidos de acoplamiento "débil" y "fuerte" y muestre solamente para el caso  $|(\omega_1^2 - \omega_2^2)| \gg \omega_{ac}^2$

los modos se parecen a los de los osciladores desacoplados.

7) Considere las oscilaciones longitudinales sistema de la figura teniendo en cuenta las fuerzas de disipación proporcionales a la velocidad.



a) Escriba las ecuaciones de movimiento para el sistema.

b) Halle los modos normales del sistema y sus frecuencias asociadas. Dibuje la configuración de cada modo normal.

c) Si se desplaza la masa de la izquierda una cantidad  $\varphi_0$  y se lo deja en reposo, escriba la evolución temporal de cada masa.

d) Realice un gráfico de la posición en función del tiempo para cada masa.

e) Halle la solución estacionaria para el caso forzado en el cual se aplica sobre la masa de la izquierda una fuerza oscilante del tipo  $f(t) = f_0 \cos(\omega t)$  ¿Qué resonancias espera ver si realiza un barrido en frecuencia forzando la masa de la izquierda según

$$f(t) = f_0 \cos(\omega t) ?$$

f\*) Repita los puntos anteriores, teniendo en cuenta además una fuerza de disipación proporcional a la velocidad de estiramiento de los resortes.

8) Repita el problema anterior pero considerando las oscilaciones transversales del sistema.



### Guía 3

1) Una cuerda de longitud  $L$  fija en sus extremos es lanzada a oscilar con igual amplitud en sus dos modos de menor frecuencia. Parte del reposo.

a- Encuentre el apartamiento del equilibrio para cada punto de la cuerda en función del tiempo. b- ¿Con qué período se repite el movimiento?

c- Grafíquelo para cuatro instantes equiespaciados dentro de un período.

2) Una cuerda de longitud  $L$  fija en un extremo y libre en el otro es lanzada a oscilar en sus modos 5 y 7 con igual amplitud, pero partiendo del reposo el modo 5 y de su máxima velocidad el modo 7. Repita los puntos del problema 1.

3) Mostrar que si  $\psi$  es solución de la ecuación de onda clásica, las funciones  $\phi_1$ ,  $\phi_2$  y  $\phi_3$  definidas abajo también lo son.

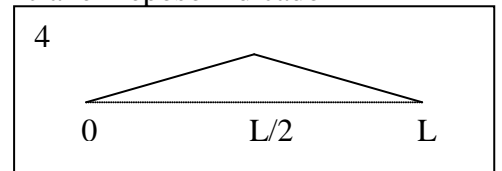
$$\phi_1 = \frac{\partial \psi}{\partial t} \quad \phi_2 = \frac{\partial \psi}{\partial x} \quad \phi_3 = \int \psi dt$$

4) Se suelta una cuerda fija en sus extremos desde el estado inicial en reposo indicado en la figura.

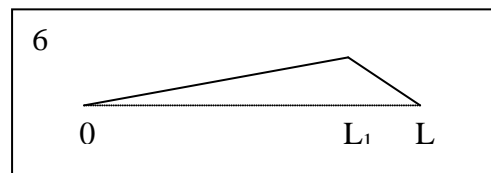
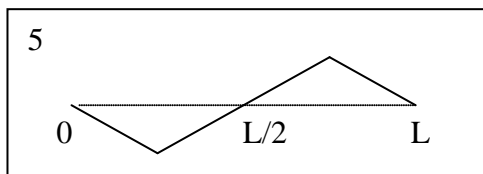
a- calcule la evolución en el tiempo.

b- ¿cuál es el modo excitado de mayor amplitud?

c- ¿qué modos no son excitados?



5) ¿Cómo cambia el problema anterior si el estado inicial es antisimétrico, como indica la figura?



6) ¿Para qué valor de  $L_1$  se maximiza la excitación del segundo modo?

¿Qué cambia musicalmente al cambiar  $L_1$ ?

7) Se aplica una fuerza impulsiva sobre un 10% del largo en una cuerda fija en sus extremos. El impulso es suficientemente rápido como para asumir que la cuerda no se movió apreciablemente durante su aplicación.

a- ¿donde debe aplicarse el golpe para tener máxima amplitud en el quinto modo?

b- ¿y para tener máxima relación entre el quinto y el tercero?

## Guía 4

1) Se tiene un tubo de longitud  $L$ . Considere las siguientes posibilidades:

- Está cerrado en ambos extremos, lleno de aire en su interior.
- Tiene un extremo cerrado y el otro abierto.
- Ambos extremos están abiertos.

Datos: velocidad de propagación de las ondas  $v_s$ ,  $L$ ,  $P_0$  (presión atmosférica),  $\rho_0 = \gamma P_0 / v_s^2$

Halle, para cada una de dichas situaciones:

a) Elija un sistema de referencia conveniente, y escriba la expresión más general para el desplazamiento de las partículas  $\Psi(x; t)$ . En dicha expresión, ¿qué parámetros conoce? ¿De qué dependen los parámetros que no conoce?

b) Las posibles longitudes de onda con las que puede vibrar el aire en el tubo, y sus correspondientes frecuencias.

c) A partir de la expresión hallada en (a), halle  $\delta p(x; t)$  (presión en cada punto, tomando como referencia la atmosférica). ¿Cuál es la diferencia de fase entre ellas? ¿Cuánto vale la amplitud de presión?

d) Halle  $\rho(x; t)$  (densidad). ¿Cuánto vale su amplitud?

2) a) ¿Qué longitud debe tener un tubo de órgano abierto en ambos extremos para que produzca en el aire un sonido de 440 Hz?

b) ¿Qué longitud deberá tener un tubo de órgano cerrado en uno de sus extremos para que produzca el mismo tono en su primer armónico?

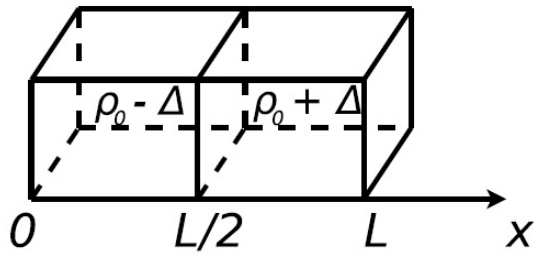
3) Se tiene un tubo cerrado en uno de sus extremos; su longitud es menor a 1m. Se acerca al extremo abierto un diapason que está vibrando con  $\nu = 440\text{Hz}$ . Considere  $v_s = 330\text{ m/s}$ .

a) Hallar las posibles longitudes del tubo para que haya resonancia. Para cada una de ellas, ¿en qué modo está vibrando el aire contenido en el tubo?

b) Repetir (a) si el tubo está abierto en ambos extremos.

4) Se establece una onda sonora estacionaria en el interior de un tubo de 1m de longitud y 5cm de diámetro. Si se la excita en el modo más bajo con una presión pico de  $10^{-2}$  dinas/cm<sup>2</sup>, calcule el desplazamiento pico y el cambio de densidad pico, así como la energía total contenida en la onda confinada en el tubo. Haga el cálculo para el tubo cerrado en ambos extremos y para el tubo abierto en un extremo. Compare ese desplazamiento con la distancia media entre moléculas en el aire. Nota: el ejemplo dado corresponde a un sonido apenas audible.

5) Se tiene un tubo de longitud  $L$  cerrado en ambos extremos como se indica en la figura. El tubo presenta un tabique ubicado en la mitad del mismo. De un lado del tabique hay un gas de densidad  $\rho_0 - \Delta$  y del otro lado hay un gas de densidad  $\rho_0 + \Delta$  (considere  $\Delta \ll \rho_0$ ). Todo el gas se encuentra en reposo. A  $t = 0$  se quita el tabique y se deja evolucionar al sistema.



a) Escriba la expresión para un modo normal  $\Psi_n(x; t)$  en el tubo, imponiendo las condiciones de contorno. ¿Cuáles son las longitudes de onda permitidas? ( $\Psi$  es el desplazamiento de los elementos del gas).

b) Escriba la expresión de  $\rho(x;0)$  y de  $\Psi(x;0)$ ; gráfíquelas.

c) Usando las condiciones iniciales, halle  $\Psi(x; t)$ . Calcule  $\rho(x;0)$ .

6) Se tiene un sistema de  $n$  masas acopladas por resortes. Halle la ecuación de ondas correspondiente a las oscilaciones longitudinales y transversales despreciando la masa de los resortes.

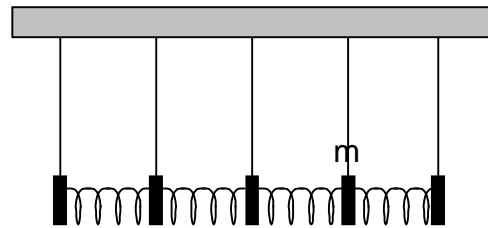
a) Encuentre la relación de dispersión para este sistema y gráfíquela.



b) Obtenga las frecuencias correspondientes a los modos normales cuando el extremo izquierdo está fijo a la pared y el derecho está libre. (Atención: ¿cómo sería un “extremo libre” en esta configuración?) y escriba la solución general para la masa enésima.

c) Ídem anterior, pero considerando que ambos extremos están libres

7) Se tiene un sistema de  $n$  péndulos acoplados longitudinalmente por resortes. Halle la ecuación de ondas correspondiente a las oscilaciones longitudinales y transversales despreciando la masa de los resortes. Encuentre la relación de dispersión para este sistema y gráfíquela.





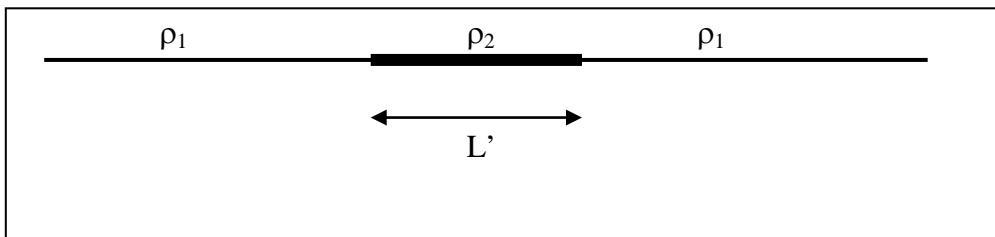
## Guía 5

1.- Demuestre que la onda sinusoidal propagante es solución de la ecuación de Klein-Gordon. Grafique la relación de dispersión. Indique como se determina en ese gráfico la velocidad de fase. Calcule analíticamente la velocidad de fase y gráfíquela.

2.- Se tiene una cuerda semi-infinita que se extiende hacia la izquierda. En  $x=L$  tiene su extremo. Una onda de amplitud  $A$  incide desde la izquierda. Calcule la expresión para la onda reflejada en este sistema de coordenadas. Repita el cálculo haciendo un cambio de variables de modo que el origen esté en el punto fijo, y vuelva a cambiar sobre el resultado al sistema original. Discuta como es la mecánica para este procedimiento.

3) Repita el problema anterior para una cuerda que cambia su densidad en  $x=L$  y donde ambos tramos son semi-infinitos. Calcule la onda reflejada y transmitida en ese sistema por los dos métodos.

4) Del lado izquierdo y del lado derecho se tienen dos porciones de cuerda semi-infinitas de densidad lineal de masa  $\rho_1$ . Ambas están unidas por un segmento de longitud  $L'$  y densidad lineal  $\rho_2$ . En esta cuerda se propaga una onda de la forma  $A_i \cos(\omega t - k_1 z)$ . Todo el sistema está sometido a una tensión  $T_0$ .



Halle la amplitud de las ondas transmitidas y reflejadas en cada porción de la cuerda.

Haga los cálculos usando los siguientes sistemas de referencia:

- el origen de coordenadas en el primer punto de cambio de  $\rho$ .
- el origen de coordenadas en el segundo punto de cambio de  $\rho$ .

5) Calcule los coeficientes de reflexión y de transmisión del sonido en la interfase de dos medios semi-infinitos de diferente densidad  $\rho$ .

a\*) Aplique dicho resultado a las siguientes interfases: a) hierro-cobre, b) aluminio-plomo, c) aire-agua.

6) Un tubo lleno de aire tiene un parlante en un extremo y el otro abierto. ¿Cómo son las condiciones de borde para calcular la amplitud de la onda sonora reflejada? ¿Y si el tubo está abierto?

7\*) Se tiene el siguiente sistema, forzado en  $z=0$ , tal que  $\psi(0,t) = A_0 \cos(\omega t)$ . No tenga en cuenta el rozamiento.

a) Calcule  $\Psi(z,t)$ .

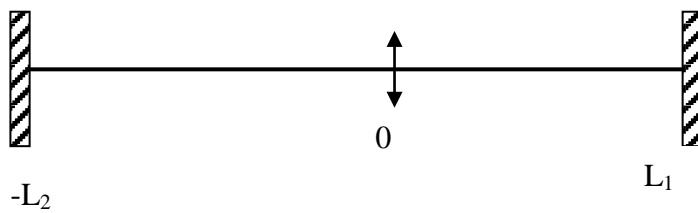
b) Calcule la fuerza que hay que hacer en  $z=0$  para que la cuerda se mueva de esta

manera. Vea que es de la forma  $f(t)=f_0\cos(\omega t)$ . ¿Cuál es la relación entre  $A_0$  y  $f_0$ ? ¿Cómo es  $\delta\Psi/\delta z$  en  $z=0$ ? ¿En qué caso es continua?

c) Si en vez de conocer el vínculo en  $z=0$  ( $\Psi(0,t)$ ) se conoce la fuerza que se realiza sobre la cuerda en ese punto, y se sabe que dicha fuerza es de la forma  $f(t)=f_0\cos(\omega t)$ , ¿cómo será el movimiento de la cuerda? (Use lo calculado en b)).

d) En  $t=0$  se deja al sistema en libertad. Si la frecuencia de excitación era  $\omega_1=3\pi v/4L$ , calcule qué modos estarán excitados para  $t>0$  y cuáles serán los más importantes.

Dibuje  $\Psi(z,0)$  y los modos más importantes. ¿Es cierto que al liberar al sistema éste sigue oscilando con la frecuencia de excitación para  $t<0$ ?



## Guía 6

1.a) Determine cuáles de las siguientes expresiones matemáticas satisfacen la ecuación de ondas clásica:

i)  $\Psi(z,t) = A \exp[-\lambda(az-bt)^2]$ ,  $\lambda \in \wedge$

ii)  $\Psi(z,t) = A(z+vt)$

iii)  $\Psi(z,t) = A \text{sen}(az+bt)$

iv)  $\Psi(z,t) = A \text{sen}(az^2-bt^2)$

b) Demuestre que cualquier función de la forma  $f(z \pm vt)$  es solución de la ecuación de ondas clásica.

2. a) Demuestre que la suma de dos ondas armónicas que se propagan en la dirección  $+z$ :  $A_1 = \cos(\omega t - kz + \phi_1)$  y  $A_2 = \cos(\omega t - kz + \phi_2)$  y que tienen la misma frecuencia  $\omega$ , es una onda armónica de propagación del mismo tipo. Esto es la suma puede escribirse en la forma  $A = \cos(\omega t - kz + \phi)$ . Encuentre cómo están relacionados  $A$  y  $\phi$  con  $A_1$ ,  $A_2$ ,  $\phi_1$  y  $\phi_2$ . Resuélvalo también en notación compleja y compare ambos resultados.

b) Calcule la superposición de dos ondas armónicas  $A_1 = \cos(\omega_1 t - k_1 z + \phi_1)$  y  $A_2 = \cos(\omega_2 t - k_2 z + \phi_2)$  que se propagan en la dirección  $+z$ . Sepárelas en una portadora a frecuencia promedio multiplicada por la envolvente. Verifique que si las frecuencias son iguales o las amplitudes lo son recupera resultados anteriores.

c) Encuentre el módulo al cuadrado de la envolvente y muestre que evoluciona en el tiempo o en el espacio siguiendo una elipse en el plano complejo. ¿Cuáles son los valores máximos y mínimos?.

d) ¿cómo se propaga la energía de esa superposición?

3) Se superponen una onda de frecuencia  $\omega_0$  de amplitud  $A$  con otras dos de frecuencias corridas en  $\pm \Delta\omega$  de amplitud iguales  $B$ .

a) Calcule la envolvente de esta superposición en el origen.

b) Calcule la envolvente de la onda propagada suponiendo que  $\Delta\omega \ll \omega_0$ . Discuta que pasa si no vale esta aproximación.

4) calcule la velocidad de fase y de grupo para la ecuación de Klein-Gordon.

5) Se encuentra a partir de un modelo\* que las ondas superficiales en un líquido satisfacen la siguiente relación de dispersión:

$$\omega^2 = \left( gk + \frac{T}{\rho} k^3 \right) \left[ \frac{1 - e^{-2kh}}{1 + e^{-2kh}} \right]$$

donde  $g$  es la aceleración de la gravedad,  $T$  es la tensión superficial (aproximadamente 72 dinas/cm para el agua),  $\rho$  es la densidad del líquido y  $h$  es la profundidad.

a) encuentre la relación de dispersión en el límite de aguas muy profundas ( $h \gg \lambda$ ) y en el opuesto de aguas poco profundas. Discuta en que rango de frecuencias y profundidades vale cada aproximación.

b) Encuentre las velocidades de fase y de grupo en ambos límites.

c) Se realiza un experimento de propagación de ondas en que se golpea periódicamente la superficie del agua. Discuta que se observa en cada caso.

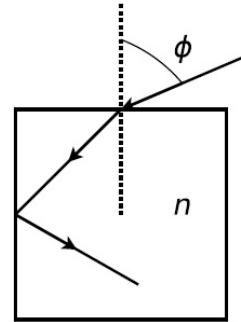
\*ver libro Ondas de Crawford, cap. 7

## Guía 7

1) a) Demuestre que un rayo que incide sobre una lámina de caras paralelas, inmersa en un medio único, no se desvía al atravesarla.

b\*) Calcule el desplazamiento lateral de dicho rayo, en términos de su espesor  $d$  y de su índice de refracción  $n$ .

c) Si el medio exterior es único, ¿existe algún ángulo de incidencia tal que produzca reflexión total en la cara inferior?



2) Un rayo incide con un ángulo  $\phi$  sobre la superficie horizontal de un cubo de material transparente, de índice  $n$ , inmerso en aire.

a) ¿Para qué valores de  $\phi$  hay reflexión total en la cara vertical?

b) Si  $\phi = 60^\circ$ , ¿cuál es el máximo  $n$  para que no haya reflexión total en la cara vertical? ¿Se puede reflejar totalmente en la cara superior?

3) Los índices de refracción de cierta clase de vidrio para el rojo y el violeta valen: 1,51 y 1,53 respectivamente. Halle los ángulos límites de reflexión total para rayos que incidan en la superficie de separación vidrio-aire. ¿Qué ocurre si un rayo de luz blanca incide formando un ángulo de  $41^\circ$  sobre dicha superficie?

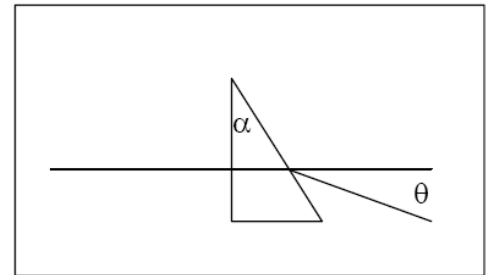
4) Un rayo incide desde la derecha perpendicularmente a la cara del prisma de la figura.

Encuentre:

a) El ángulo de desviación  $\theta$  de la luz transmitida en función del índice de refracción y el ángulo  $\alpha$  del prisma.

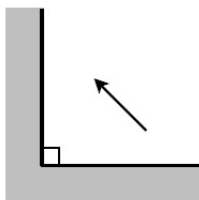
b) El ángulo  $\alpha$  a partir del cual toda la luz es reflejada (reflexión total interna).

c) Teniendo en cuenta que los índices de refracción para el rojo y el violeta son levemente distintos, siendo mayor el del violeta ¿Para cuál de ambos colores será mayor la desviación en el prisma? Calcule dichas desviaciones empleando los datos del problema 3.

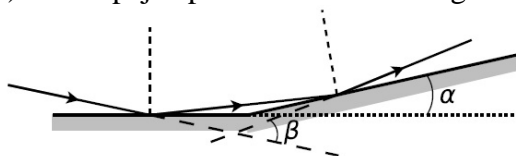


5) ¿Cuál es la mínima longitud de un espejo plano vertical para que un hombre de 1,8 m se vea entero? ¿Es importante conocer la distancia hombre-espejo?

6) Haga un esquema de un diagrama de rayos localizando las imágenes de la flecha que se muestra en la figura.



7) Dos espejos planos forman un ángulo  $\alpha$  como lo indica la figura.



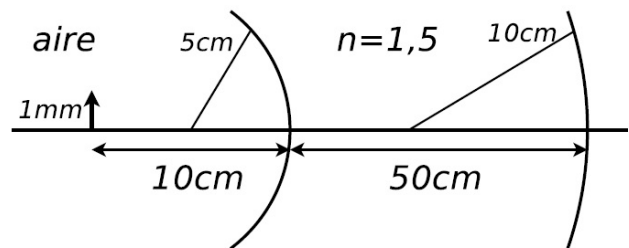
a) Un rayo de luz contenido en un plano perpendicular a la intersección de los espejos incide sobre uno de ellos, se refleja e incide en el otro (ver figura). Calcule el ángulo que forman los rayos incidente y emergente.

b) Suponga la misma geometría que en (a) pero ahora iluminada por una fuente puntual, demuestre que las imágenes se encuentran sobre una circunferencia con centro en el vértice de los espejos.

8) a) Para una dioptra esférica arbitraria haga un gráfico  $s_0$  vs  $s_i$  y analice a partir de él para qué posiciones de los objetos reales las imágenes son reales o virtuales, directas o invertidas y lo mismo para objetos virtuales. Analice todos los casos posibles para dioptras convergentes y divergentes.

b) ¿Pueden ser iguales las dos distancias focales de una dioptra? Justifique su respuesta.

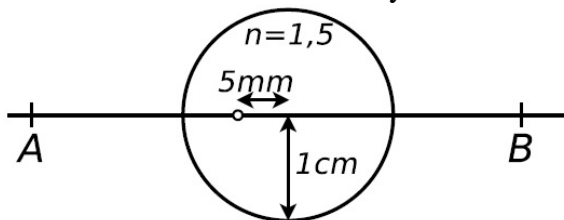
9) Una barra de material plástico transparente de la forma y dimensiones de la figura, es iluminada por una rendija. Calcular la posición y tamaño de la imagen formada por cada una de las dioptras, y especificar si son reales o virtuales. El índice de refracción es 1,56. Hacer un trazado de rayos a escala.



10) Una moneda se encuentra en el fondo de un vaso que contiene agua hasta una altura de 5 cm ( $n_{\text{agua}} = 1,33$ ). Un observador la mira desde arriba, ¿a qué profundidad la ve?

Ayuda: puede considerar a la superficie del agua (dioptra plana) como una dioptra esférica de radio infinito.

11) La esfera de vidrio de la figura, de 1 cm de diámetro, contiene una pequeña burbuja de aire desplazada 0,5 cm de su centro. Hallar la posición y el aumento de la burbuja cuando se la observa desde A y cuando se la observa desde B.



12) a) Determine la distancia focal de una lente plano-cóncava ( $n = 1,5$ ) cuyo radio de curvatura es 10 cm. Determine su potencia en dioptrías.

b) Se tiene una lente biconvexa con  $R_1 = R_2 = 10$  cm, construida con un vidrio de índice 1,5. Se la usa con aire a un lado de la misma y con un líquido de índice 1,7 al otro lado. ¿Cuánto valen las distancias focales? ¿Es convergente o divergente? Responda las mismas preguntas si: i) está inmersa sólo en aire, ii) está inmersa en el medio de índice 1,7.

13) Halle la distancia focal de una lente sumergida en agua, sabiendo que su distancia focal en el aire es de 20 cm. El índice de refracción del vidrio de la lente es 1,6.

14) A simple vista la luna subtiende un ángulo de  $31'08''$ . ¿Cuál es el tamaño de la imagen de la luna, a través de una lente convergente de distancia focal 1 m?

15) a) Una lente delgada convergente, de distancia focal 30cm, se coloca 20cm a la izquierda de otra lente delgada divergente de distancia focal 50cm. Para un objeto colocado a 40cm a la izquierda de la primera lente determine la imagen final. ¿Cuál es el aumento lateral del sistema? ¿La imagen es real o virtual, es directa o invertida?. Resuélvalo también geoméricamente.

b) Repita el punto a) pero suponiendo que objeto está colocado 3 cm a la izquierda de la primera lente.

16) a) Se coloca un objeto a 18 cm de una pantalla, ¿en qué puntos entre la pantalla y el objeto se puede colocar una lente delgada convergente de distancia focal 4 cm, para que la imagen del objeto esté sobre la pantalla? ¿Qué diferencia hay entre ubicarla en una u otra posición?

b) Un objeto se halla a distancia fija de la pantalla. Una lente delgada convergente, de distancia focal 16 cm, produce imagen nítida sobre la pantalla cuando se encuentra en dos posiciones que distan entre sí 60 cm. ¿Cuál es la distancia objeto–pantalla?}

17) a) Describa la lupa (pensada como un “microscopio simple”) y recordando que el aumento de un instrumento se define como el cociente entre el ángulo con que se ve al objeto a través del instrumento y el ángulo con que se lo ve a ojo desnudo, calcule su aumento en los siguientes dos casos: i) imagen final en infinito, ii) imagen virtual a 25cm de la lupa.

b) Describa un microscopio compuesto, enumerando cada uno de los elementos que lo componen y la función que cumple cada uno de ellos. Indique también si en la práctica cada uno de estos elementos es un elemento simple o no. ¿Cómo se considera, a los efectos de resolución de esta guía, un microscopio compuesto?.

18) Un antejo astronómico utiliza como objetivo una lente convergente de 2m de distancia focal y 10cm de diámetro, y como ocular una lente convergente de 4cm de distancia focal. Determine: a) el aumento.

b) El tamaño de la primera imagen de la luna y el tamaño angular de la imagen final a través del telescopio. La luna subtiende, a ojo desnudo, un ángulo de  $31'$ .

19) Un microscopio consta de un objetivo de 4mm de distancia focal y de un ocular de 30mm de distancia focal. La distancia entre el foco imagen del objetivo y el foco objeto del ocular es  $g=18\text{cm}$ . Calcule: a) El aumento normal del microscopio, es decir el aumento cuando la imagen final está en el infinito. b) La distancia objeto-objetivo.

## Guía 8

1) Escriba la expresión matemática de:

- Una onda linealmente polarizada cuyo plano de polarización forma un ángulo de  $30^\circ$  con el eje  $x$  (se propaga según el eje  $z$ ).
- Una onda que se propaga según el eje  $x$ , polarizada circularmente en sentido horario.
- Una onda elípticamente polarizada en sentido horario, que se propaga según el eje  $x$ , tal que el eje mayor, que es igual a dos veces el eje menor, está sobre el eje  $y$ .
- Una onda elípticamente polarizada en sentido antihorario. La onda se propaga según el eje  $x$  positivo (use terna directa).

2) Una onda inicialmente polarizada según  $x$  y viajando según  $z$  positivo incide en un polarizador cuyo eje de transmisión forma un ángulo  $A$  con el eje  $x$ , y luego pasa por un segundo polarizador que forma un ángulo  $B$  con el primero. ¿Cuál es la expresión de la onda transmitida en los ejes originales? ¿Y en los ejes del segundo polarizador? ¿Cómo son las respectivas matrices que describen al sistema? ¿Cuál es la intensidad media transmitida por el sistema?

3\*) Se tiene un polarizador imperfecto con una matriz

$$\begin{bmatrix} t_x & \varepsilon \\ \varepsilon & \delta \end{bmatrix} \text{ con } t_x \approx 1, \varepsilon \ll 1 \text{ y } \delta \ll 1.$$

- hallar la matriz del polarizador si forma un ángulo  $\theta$  con el eje  $x$ .
- Hallar la energía transmitida si se incide con luz linealmente polarizada según  $x$ .
- idem b si incide polarizada según  $y$ .

4) Se tienen  $N$  polarizadores sucesivamente rotados en ángulos  $\pi/(2N)$ , encontrar la matriz del sistema. Hallar el límite para  $N$  tendiendo a  $\infty$ . Calcular la intensidad transmitida.

5) Una onda de polarización arbitraria incide sobre un espejo plano y se refleja sobre sí misma. ¿Cómo escribe la onda reflejada cambiando al sistema  $z' = -z$  de modo que nuevamente se propague según  $z$  positivo. Note que al invertir  $z$ , debe invertir algún otro eje para mantener las orientaciones relativas de los ejes. ¿Cómo es ahora la matriz de un polarizador en este nuevo sistema? ¿y una lámina de onda?

6) Mostrar que el versor para una onda polarizada circularmente sólo cambia en una fase ante una rotación de coordenadas. ¿Cuánto cambia la fase? Explique.

7) Encontrar la matriz de un polarizador seguido de una lámina de cuarto de onda orientada con su eje a un ángulo  $A$  respecto del eje del polarizador. ¿Cuál es el estado de polarización de la onda transmitida? ¿Depende del estado de polarización de la incidente? Explique. Calcule la intensidad transmitida en función de  $A$ .

8) Al sistema anterior se le agrega un espejo que refleja la onda sobre sí misma. ¿Para qué ángulo  $A$  la transmisión del sistema a la vuelta es nula y para cuál es máxima?

9) Incide un haz de luz natural de intensidad  $I_0$  sobre un polarizador lineal (ideal). ¿Qué intensidad se transmite? ¿Por qué?

10) Sobre un polarizador incide una onda circularmente polarizada en sentido horario. ¿Cuál es el estado de polarización de la onda transmitida? ¿Qué fracción de la intensidad incidente se transmitió a través de la lámina? Justifique.

11) Se hace incidir luz circularmente polarizada en sentido horario sobre una lámina retardadora de cuarto de onda ( $+\lambda/4$ ). ¿Cuál es el estado de polarización de la luz al emerger de la misma?

12) Sobre una lámina de cuarto de onda incide un haz de luz natural de intensidad  $I_0$ . ¿Con qué estado de polarización emerge? ¿Cuál es su intensidad? Justifique.

13) Incide luz linealmente polarizada sobre una lámina de cuarto de onda. El plano de polarización es paralelo al eje de la misma. ¿Cuál es el estado de polarización de la luz que emerge de la lámina?

14) Una onda linealmente polarizada incide sobre una lámina de media onda ( $+\lambda/4$ ). El plano de polarización forma un ángulo de  $30^\circ$  con el eje de la lámina. ¿Cuál es el estado de polarización de la luz que sale de la misma?

15) Un alumno de laboratorio 2 necesita utilizar una fuente de luz circularmente polarizada derecha lo más potente posible. Sin embargo, sólo dispone de una fuente de luz elípticamente polarizada izquierda tal que el eje mayor de la perturbación es cuatro veces el eje menor. Además dispone de los siguientes elementos: i) dos láminas iguales de cuarto de onda y ii) un polaroid.

a) Establezca, justificando claramente su elección, los elementos que utilizaría, en qué orden, y con qué objetivos, para lograr la fuente que necesita. No olvide que se quiere que la fuente sea lo más potente posible.

b) Elija un sistema de coordenadas, y en un plano perpendicular a la dirección de propagación dibuje la evolución temporal de la perturbación incidente. Escriba el vector que representa a dicha perturbación.

c) Calcule el ángulo que los ejes de cada elemento deben formar con los ejes propios de la perturbación incidente y el ángulo que los ejes propios de la perturbación emergente de cada elemento forman con los ejes propios de la perturbación incidente.

16) Se tiene un haz de luz monocromática linealmente polarizada y se desea diseñar un dispositivo que logre rotar el vector campo eléctrico a  $90^\circ$  del inicial, de forma tal que la intensidad a la salida sea aproximadamente la misma que a la entrada. Para armar dicho dispositivo usted dispone de láminas de cuarto de onda y polaroids.

a) Diga qué elementos usaría, en qué orden y con qué objetivos.

b) Calcule los ángulos entre los ejes propios de cada elemento y la dirección del campo incidente y la polarización del campo eléctrico a la salida de cada elemento.

c) ¿Podría lograr el mismo objetivo si en lugar de disponer de láminas de cuarto de onda y polaroids, dispusiera de láminas de media onda y polaroids? De ser así, ¿qué elementos usaría? Justifique claramente su respuesta.

17) Se tiene un haz de luz monocromática y linealmente polarizada. A partir de ella se desea obtener luz elípticamente polarizada en sentido antihorario, mediante una lámina de  $+1/4$  de onda. Se desea que el eje mayor de la elipse sea tres veces el eje menor. Hallar el ángulo que debe formar el plano de polarización de la luz incidente con el eje



rápido de la lámina para que el campo eléctrico a la salida de la lámina tenga la polarización pedida (si más de un valor es posible, alcanza con que dé uno de ellos).  
¿Cuáles son los ejes de la elipse de la luz que emerge?

**18\*)** Se realizan los siguientes experimentos: entre dos polarizadores rotados un ángulo  $A$  se colocan alternativamente un medio con actividad óptica que rota la polarización un ángulo  $B$  y un rotador de Faraday que también rota ese mismo ángulo. Calcule para cada caso la transmisión del sistema y para qué valor de  $B$  es máxima. Para ese valor de  $B$  se refleja la luz nuevamente sobre el sistema. Calcule ahora la intensidad devuelta para cada caso. ¿En algún caso se puede hacer nula?

**19\*)** Se tiene un haz de luz y se quiere conocer su estado de polarización (el tipo de polarización y la orientación respecto de los ejes del laboratorio) realizando experimentos. Se cuenta con el siguiente material: un detector que mide intensidad de luz, un polarizador lineal con el eje de transmisión paralelo a la mesa óptica (la mesa sobre la que se trabaja), una lámina de media onda, y una lámina de cuarto de onda. Las dos últimas están montadas en soportes que permiten girarlas, y se conoce la ubicación de los ejes ordinarios. Describa un procedimiento experimental que contemple todos los casos que puedan presentarse.

## Guía 9

1) Dos ondas planas monocromáticas de igual frecuencia se propagan formando un ángulo  $\alpha$  entre sus vectores de onda. Calcule la amplitud e intensidad media en una pantalla perpendicular a la bisectriz entre ambos vectores de onda.

2) Resuelva el problema anterior si las dos ondas son de frecuencia ligeramente diferentes.

Muestre que la figura de interferencia viaja a lo largo del plano y determine a que velocidad se mueve. Si se desea fotografiar la figura de interferencia, ¿que relación debe haber entre el tiempo de obturación y la diferencia entre ambas frecuencias? Si para este experimento se utilizan dos láseres distintos. ¿Qué longitud de coherencia deben tener como mínimo? ¿Con cuántas cifras debe estar definida la frecuencia para un caso típico de luz visible?

3) Una onda plana incide sobre una lámina de caras paralelas de vidrio de espesor  $d$ , con un ángulo de incidencia  $\theta_i$ . Calcule la amplitud de la onda reflejada teniendo en cuenta solamente las dos reflexiones más intensas. Calcule la amplitud de la onda transmitida teniendo en cuenta la que no sufre reflexiones y la que se refleja dos veces. Compare la pérdida de energía de la onda transmitida con la energía de la onda reflejada.

4) Se tienen dos fuentes puntuales que emiten en fase ubicadas a una distancia  $d$  entre ellas.

Calcule la figura de interferencia que se observa en una pantalla ubicada a una distancia  $L$  y perpendicular a la recta de unión entre las fuentes ( $L \gg d$ ). ¿Cómo es la figura en una pantalla paralela a la recta de unión y a una distancia  $L'$  de la misma ( $L' \gg d$ )? ¿Cuántos máximos de interferencia aparecen en cada caso? ¿Como debe ser la longitud de coherencia para que todos ellos sean visibles?

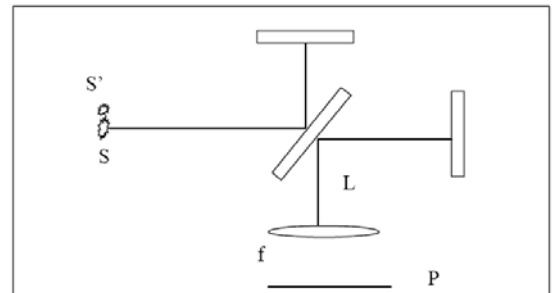
5) Un interferómetro de Michelson es iluminado por medio de una fuente puntual monocromática  $S$ . Calcule:

- La posición de los máximos y mínimos en una pantalla ubicada a una distancia  $L$  del divisor de haz.
- La posición de los máximos y mínimos en una pantalla ubicada a una distancia  $f$  de una lente de distancia focal  $f$  ubicada a una distancia  $L$  del divisor de haz.
- Lo mismo que en a y b si se ubica otra fuente  $S'$

d) Discuta como se observaría la figura si se ilumina con una fuente extensa. Explique porque esta configuración se denomina franjas de igual inclinación.

e) Indique la expresión de la intensidad que se mide con un detector que detecta el punto central, en función de la diferencia de distancias entre el divisor de haz y los dos espejos.

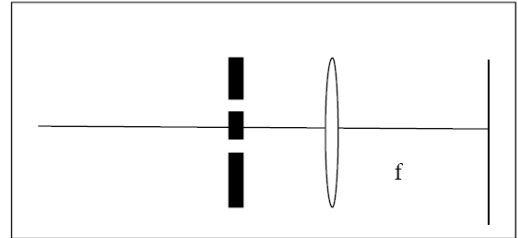
6) Un interferómetro de Michelson es iluminado por una fuente que emite en dos frecuencias. Calcule el valor medio de la intensidad de luz detectada. Muestre que cada frecuencia da una contribución sinusoidal con la distancia independiente de las otras frecuencias presentes, y que si multiplica la señal medida por  $\cos(\omega z/c)$  e integra según  $z$  puede recuperar la intensidad de la fuente a la frecuencia  $\omega$ . ¿Cuán largo debe ser el barrido para que la otra frecuencia  $\omega'$  no contribuya?. Calcule el caso particular de querer resolver el doblete del sodio.



7) Diseñe (si es posible) un experimento de Young a ser realizado por medio de un puntero laser, un papel de aluminio en que perforo dos aberturas muy próximas con un alfiler y observe a ojo desnudo. ¿Que ventajas tiene utilizar un biprisma de fresnel para realizar el mismo experimento?

8) Diseñe un experimento similar al de Young pero con dos fuentes sonoras y de modo que ambas orejas caigan dentro de un máximo de interferencia. ¿Porqué con sonido se pueden usar fuentes independientes?

9) Se realiza un experimento de Young utilizando dos aberturas ubicadas a una distancia  $d$  y observando en una pantalla ubicada en el plano focal de una lente colocada delante de las ranuras. Discuta que se observa en cada uno de los siguientes casos:



- Se ilumina las aberturas con una onda plana incidiendo sobre las ranuras con un ángulo  $\alpha$  respecto del eje indicado y en el plano del dibujo.
- Se ilumina por medio de una fuente puntual ubicada en el eje.
- la fuente puntual es ubicada fuera del eje.
- la fuente no es monocromática sino que tiene una longitud de coherencia de  $10d$ .

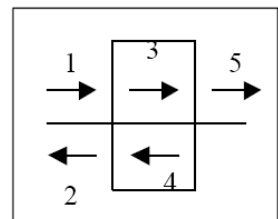
10) Resuelva nuevamente el caso de la lámina de caras paralelas teniendo en cuenta ahora las infinitas reflexiones.

11) Se tienen  $N$  fuentes puntuales monocromáticas en línea equiespaciadas. Calcule las franjas de igual inclinación si se observa a lo largo del eje determinado por las fuentes. Calcule el ancho de las franjas claras y la separación entre ellas. ¿Qué se observa a lo largo del eje de las fuentes en función de la separación entre las fuentes? ¿Cómo cambia con el número de fuentes? Si las fuentes emiten en dos colores, ¿en qué condiciones quedan separados nítidamente los respectivos máximos?

12) Repita el problema anterior observando a lo largo de un eje perpendicular a las fuentes. ¿Qué se observa ahora que cambia con la separación entre fuentes y con el número de fuentes?

13) Compare la solución del interferómetro Fabry-Perot con la solución del problema 11. ¿En que se parecen y en que difieren? ¿Quién juega el papel de la distancia entre fuentes y cuál es el número de fuentes equivalentes que da los mismos anchos característicos de los máximos?

14) Resuelva el problema de la lámina de caras paralelas con incidencia normal a las caras asumiendo una solución autoconsistente en vez de hacer una suma infinita: considere que dentro de la lámina hay una onda hacia la derecha  $\Psi_3$  y otra hacia la izquierda  $\Psi_4$ , que incide una onda de la izquierda  $\Psi_1$ , se refleja una onda hacia la derecha  $\Psi_2$  y se transmite una onda  $\Psi_5$ . Resuelva las incógnitas planteando las condiciones de borde (reflectividad y transmisión en cada cara).



## Guía 10

1) Una ranura de ancho  $D$  es iluminada por una onda plana incidente perpendicularmente al plano de la ranura, observándose la figura de difracción en una pantalla ubicada a una distancia  $L$ .

- ¿A qué distancia debe ubicarse la pantalla para que valga la aproximación de Fraunhofer?
- Estime dichas distancias para ranuras de ancho  $10\mu\text{m}$ ,  $100\mu\text{m}$  y  $1\text{mm}$ , para luz visible.
- ¿Para qué ranuras y distancias se cumplen condiciones equivalentes con ondas de sonido?
- Para alguno de los casos anteriores calcule y grafique como cambia la distribución de intensidades si la onda incide con un ángulo de  $10^\circ$  respecto de la normal al plano de la ranura.
- Ídem d, si la ranura se ilumina con una fuente puntual ubicada a una distancia  $L'$ .

2) Delante de la ranura del problema anterior se ubica una lente de distancia focal  $f$ .

- Calcule el perfil de intensidad en una pantalla plana ubicada en el plano focal de la lente.
- Lo mismo si la onda incide con un ángulo de  $10^\circ$ .
- Si inciden ambas ondas (a y b) ¿qué condiciones debe cumplir la lente para que las manchas respectivas queden nítidamente separadas?
- ¿Con qué precisión debe ubicarse la pantalla en el plano focal para que valgan los resultados de los puntos anteriores?

3\*) Una fuente puntual está ubicada a una distancia  $s$  de una lente de distancia focal  $f$ .

- Calcule la función de onda en el plano imagen.
- calcule el perfil de intensidad. ¿Qué información se perdió al medir la intensidad?

4\*) Se tiene una onda monocromática de perfil Gaussiano que en  $z=0$  tiene la forma:

$$\psi(x, y, z, t) = A e^{i\omega t} e^{-(x^2+y^2)/2\sigma^2}$$

- Calcular en la aproximación paraxial (integral de Kirchhoff) la función de onda en un plano  $z=\text{cte}$  cualquiera.
- Calcular el perfil de intensidad en dicho plano. ¿Qué información se pierde al medir la intensidad?
- Con el dato de la función de onda en el plano  $z$ , calcule nuevamente la función de onda en un plano  $z'$  posterior. Notar como se recupera el ya calculado originalmente para todo  $z$ . ¿Por qué no puedo calcularlo si conozco solamente el perfil de intensidades?

5\*) En el plano  $z$  del problema anterior se ubica una lente.

- Calcular la función de onda ahora en un plano a una distancia  $z'$  de la lente. Escriba la expresión integral y resuelva suponiendo la lente de diámetro mucho mayor que el haz Gaussiano. Discuta como cambia según la ubicación de la lente. ¿Cómo es el perfil de intensidades en el foco de la lente? ¿Para qué valor de  $z$  dicho perfil es más angosto?
- Para el problema anterior, encuentre la nueva cintura del haz (el plano de mínimo ancho espacial).
- Discuta el caso particular en que  $z=f$  (lente ubicada con el foco en la cintura del haz)
- ¿Cómo cambia el punto a si la lente tiene diámetro mucho menor que el diámetro característico del haz.





## Guía 11

1) En una rendija de ancho  $D$  se ubican sucesivamente distintas diapositivas de transmisión  $t(x,y)$ . Calcular para cada caso el perfil de intensidades en un plano ubicado suficientemente lejos como para que valga la aproximación de Fraunhofer. Discutir cualitativamente los resultados. Proponga para cada caso como construirlas.

a)  $t(x,y) = \cos(\alpha x)$

b)  $t(x,y) = \cos^2(\alpha x)$

c)  $t(x,y) = e^{i\alpha x}$

d)  $t(x,y) = \exp(-x^2/d^2)$  con  $d \ll D$

2) Con una onda plana se ilumina en forma normal una diapositiva de estructura periódica. Si se iluminan  $N$  períodos, calcular en la aproximación de Fraunhofer la amplitud y la intensidad en una pantalla ubicada a una distancia  $L$  de la diapositiva, para cada una de las siguientes transmisiones de las mismas:

a)  $t(x) = \cos(K_0 x)$

b)  $t(x) = 1 + \cos(K_0 x)$

c)  $t(x) = 1 + \sin(K_0 x)$

d)  $t(x) = 1 + \cos(K_0 x) + \sin(2K_0 x)$

Discutir las similitudes, diferencias y algún sistema sencillo para generarlas.

3)  $N$  ranuras de ancho  $a$  y separación  $b$  son iluminadas uniformemente. Calcular la figura de difracción en el campo lejano. Discutir cómo cambia el patrón de intensidades si se cambia el ángulo con que se incide sobre la red. ¿Qué pasa si inciden dos longitudes de onda distintas, y en qué casos se distinguen los dos máximos?

4) Para los dos ejercicios anteriores de ejemplos alternativos de redes que den el mismo patrón de intensidad.

5) ¿Cómo cambian las figuras de difracción si en los ejercicios 2 y 3 se ilumina con un haz Gaussiano?

¿Qué es propio de la forma de iluminar, qué de la periodicidad de la transparencia y qué de la forma particular que se repite periódicamente?

6) Repita los ejercicios anteriores (2-5) para el caso en que se intercala una lente después de la red. ¿Y si se intercala antes?

7) Un espejo tiene una superficie ondulada de modo que la fase de la onda reflejada varía según  $\phi = \delta \cos(K_0 x)$ . Si  $\delta \ll 1$ , calcule la onda difractada en la reflexión.

8) Se tiene una estructura periódica con una transmisión

$$t(x,y) = [1 + \cos(K_1 x)] \{1 + \cos(K_2 y)\}$$

calcular el perfil de intensidades difractado en la aproximación de campo lejano.

9\*) Calcular la dirección en que aparecen los máximos en una estructura bidimensional

$$\text{en que } \vec{a} = \frac{\lambda}{3} \hat{x} \text{ y } \vec{b} = \frac{\lambda}{5} \hat{y}.$$